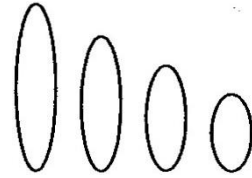


第30問 ゲノム

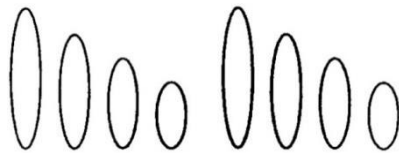
生きるのに最低限必要な染色体(遺伝子)のセットをゲノムという。右の図はショウジョウバエのゲノムを表した模式図である。これに関する下の各問に答えよ。



問1 このような染色体のセットを「n」を使って表記せよ。

問2 ヒト・エンドウマメの場合のゲノムはどのように表記できるか。「n」を使って表記せよ。

問3 ゲノムは父、母から1セットずつもらうのでその子どもはゲノムを2セット持つことになる(下図)。これに関する下の各設問に答えよ。



設問(1) この図の状態を「n」を使って表記せよ。

設問(2) 精子や卵を総称して何というか。

設問(3) ゲノムを2セット持つと同じ染色体を2本ずつ持つことになるが、この同じ染色体を何というか。

設問(4) ヒトとエンドウマメの場合のゲノムを2セット持った状態を「n」を使って表記せよ。

<第30問の解答>

問1 $n = 4$

問2 ヒト： $n = 23$ エンドウマメ： $n = 7$

問3

設問(1) $2n = 8$

設問(2) 配偶子

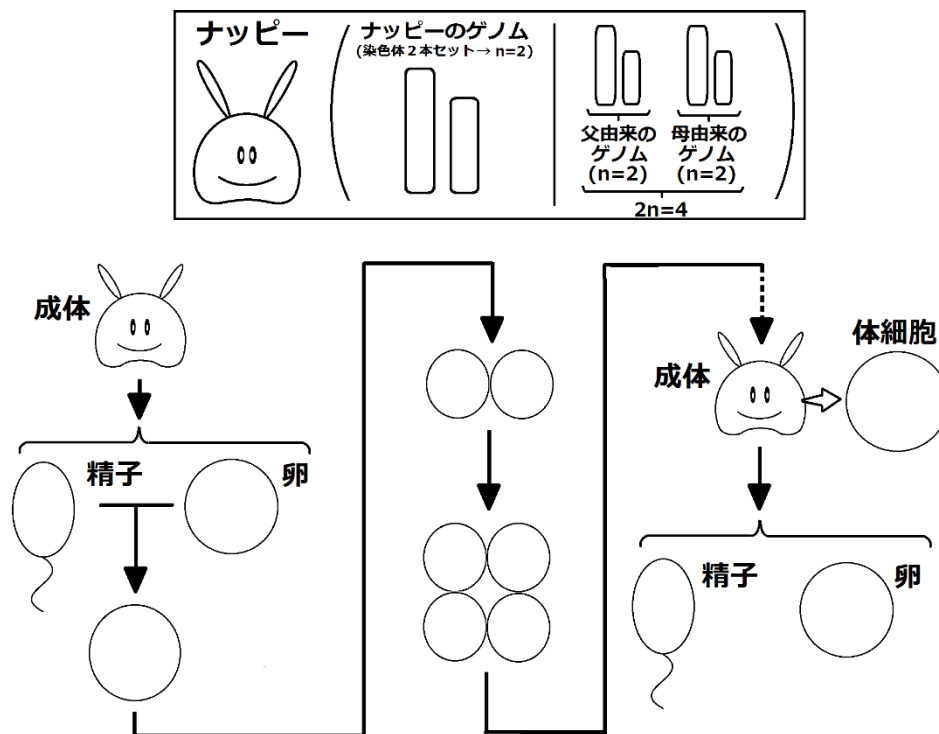
設問(3) 相同染色体

設問(4)

ヒト： $2n = 46$ エンドウマメ： $2n = 14$

第31問 配偶子から配偶子の1サイクル 1学期

次の図は大堀が講義で板書したものである。これに関して下の問に答えよ。



問1 図を完成させよ(問1の解答は次ページ)。

問2 この部分で大堀が言いたかったことは次の3つである。講義を思い出しながら空欄(ア~オ)を埋めよ(問2の解答はすぐ下)。

- ☆-1 全ての体細胞は受精卵と同じだけ染色体を持っている。つまり、ナッピーの体細胞は1兆個だが、これら1兆個の体細胞全てが(ア)になっている。ヒトも同じで、(イ)個の体細胞全てが受精卵と同じ(ウ)になっている。
- ☆-2 ゲノムのセット数を変化させない分裂がある→(エ)
- ☆-3 配偶子はゲノムのセット数を半分にする分裂で作る→(オ)

<第31問の解答>

問2

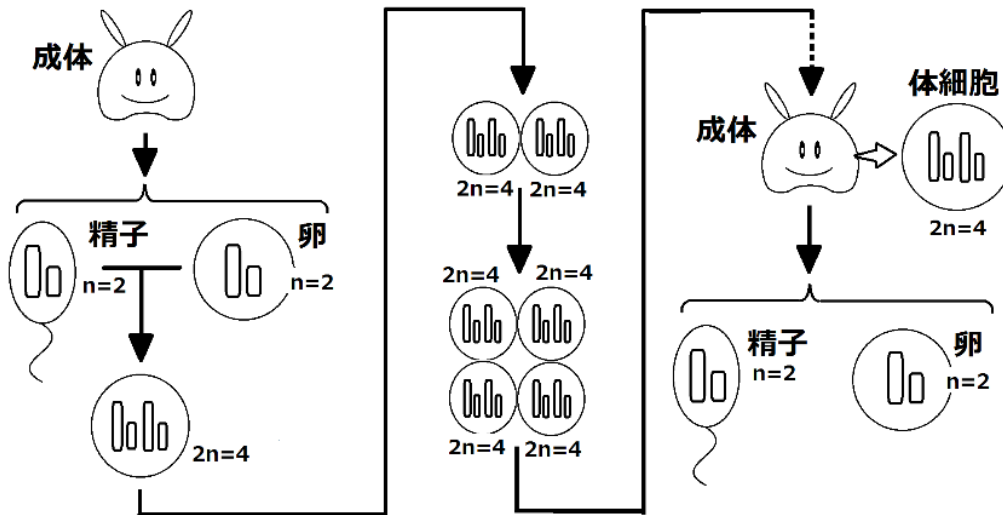
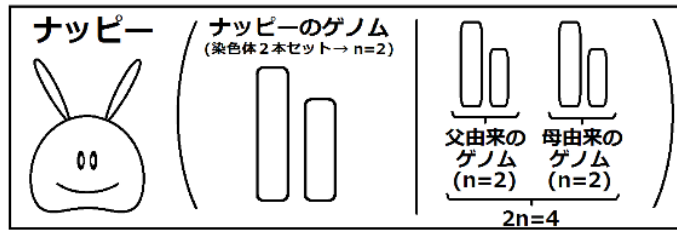
ア - $2n = 4$ イ - 60兆(40兆) ウ - $2n = 46$ エ - 体細胞分裂

オ - 減数分裂

☆最近、ヒトの体細胞は37兆(約40兆)個くらいという説が出てきた(早稲田大学の入試で出題された)。

<第3 1問の解答>

問1



第32問 グリフィスの研究

次の文章を読んで下の各問に答えよ。

グリフィスは肺炎双球菌を研究した。この肺炎双球菌にはカプセルを持ち病原性のあるS型菌と、S型菌が突然変異して生じたR型菌がある。R型菌はカプセルを作るための遺伝子群が正常に発現しない。このためカプセルを作ることができず、体内に侵入しても白血球の食作用によって排除される。

問1 グリフィスが発見した現象はどのようなものか、次の空欄(ア～ウ)に適する語句を入れよ。

(ア) R型菌と(イ) S型菌を混ぜると(ウ)が生じる。

問2 下線部に関して、白血球は食作用によって異物を取り込んだあと、この異物をどうするのか。次の文の空欄(エ～カ)に適する語句を入れよ。

異物を(エ)によって取り込み、(オ)と融合させ、その中の(カ)で分解する。

問3 問2の文の反対の現象を何というか。

<第32問の解答>

問1

ア - 生きた イ - 死んだ ウ - 生きたS型菌

問2

エ - エンドサイトーシス オ - リソソーム カ - 加水分解酵素

問3

エキソサイトーシス

第33問 エイブリーの研究

問 次の文章中の空欄(ア～カ)に適する語句を入れよ。

アベリーはグリフィスが発見した現象について次のような仮説を立てた。すなわち「(ア)R型菌が(イ)S型菌から(ウ)を取り込んで、その(ウ)によってR型菌はカプセルを作れるようになった」。つまりR型菌はS型菌に変化したわけで、このように外部から遺伝子を取り込んで性質を変化させる現象を(エ)という。アベリーはこの(エ)をおこさせる物質、すなわち(ウ)の正体を探った。まず、S型菌の成分を調べたところ(オ)・糖・(カ)であった。ということは、R型菌はこれらのどれかによってS型菌に変わったわけで、それが(ウ)ということになる。そこでこれら3つの物質を1つずつR型菌と混ぜてみたところ、(カ)と混ぜたときだけS型菌に(エ)することがわかった。すなわち(ウ)の正体は(カ)であることがわかった。しかし、1940年代当時、多くの研究者は(オ)が(ウ)の正体であると考えていたため、この業績は見過ごされてしまった。

<第33問の解答>

ア - 生きて イ - 死んだ ウ - 遺伝子 エ - 形質転換
オ - タンパク質 カ - DNA

第34問 ハーシーとチェイスの研究

ハーシーとチェイスの研究を説明した次の文章を読んで、

ハーシーとチェイスは(ア)を使ってT₂ファージを観察した。するとT₂ファージが大腸菌に感染してから30分後、その大腸菌から多数のT₂ファージの複製が出現した。ここでハーシーとチェイスは「T₂ファージが大腸菌に(イ)を送り込み、この(イ)によってT₂ファージの複製が作られた」と考えた。さらに「(イ)の正体は何か」を探るためにT₂ファージの成分を分析した。すると(ウ)と(エ)の2つしかないことがわかった。従ってこれら2つの物質のうち、大腸菌に送り込まれた方が(イ)であることになる。彼らはどちらが送り込まれたかがわかるように(ウ)と(エ)それぞれに特有の元素を標識した。すると大腸菌に送り込まれていたのは(エ)であった。

問1 上の文章中の空欄(ア～エ)に適する語句を入れよ。

問2 (ウ)と(エ)のどちらが大腸菌に送り込まれたかを調べるために、ハーシーとチェイスが用いた方法を説明した次の文章中の空欄(オ～ス)に適する語句を入れよ。

(ウ)を構成する元素は(オ)・(カ)・(キ)・(ク)・(ケ)、
(エ)を構成する元素は(オ)・(カ)・(キ)・(ク)・(コ)であるため、(ケ)と(コ)それぞれに(サ)である(シ)・(ス)を用いて標識した。

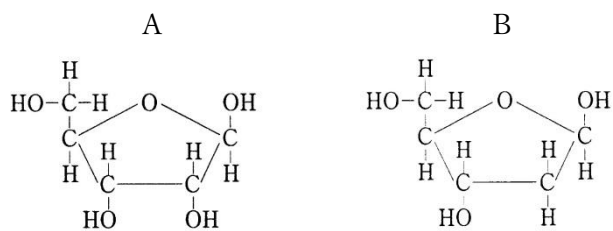
<第34問の解答>

問1 ア - 電子顕微鏡 イ - 遺伝子 ウ - タンパク質 エ - DNA

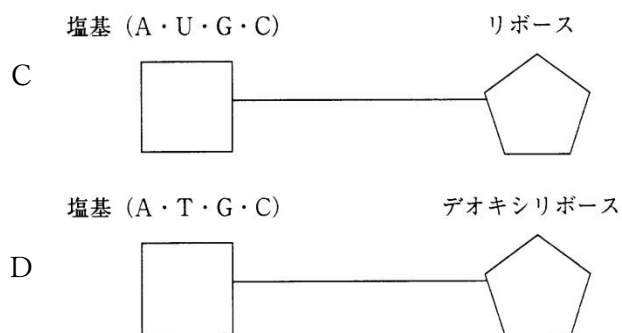
問2 オ・カ・キ・ク - C・H・O・N ケ - S コ - P サ - 放射性同位体
シ - ³⁵S ス - ³²P

第35問 DNAの構造

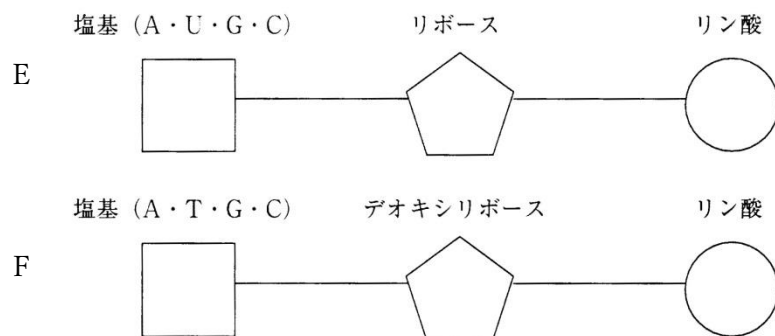
問1 次の物質(A・B)の名称をそれぞれ答えよ。



問2 次の物質(C・D)の名称をそれぞれ答えよ。



問3 次の物質(E・F)の名称をそれぞれ答えよ。



<第35問 問1～3の解答>

問1 A：リボース B：デオキシリボース

問2 C：ヌクレオシド(リボヌクレオシド)

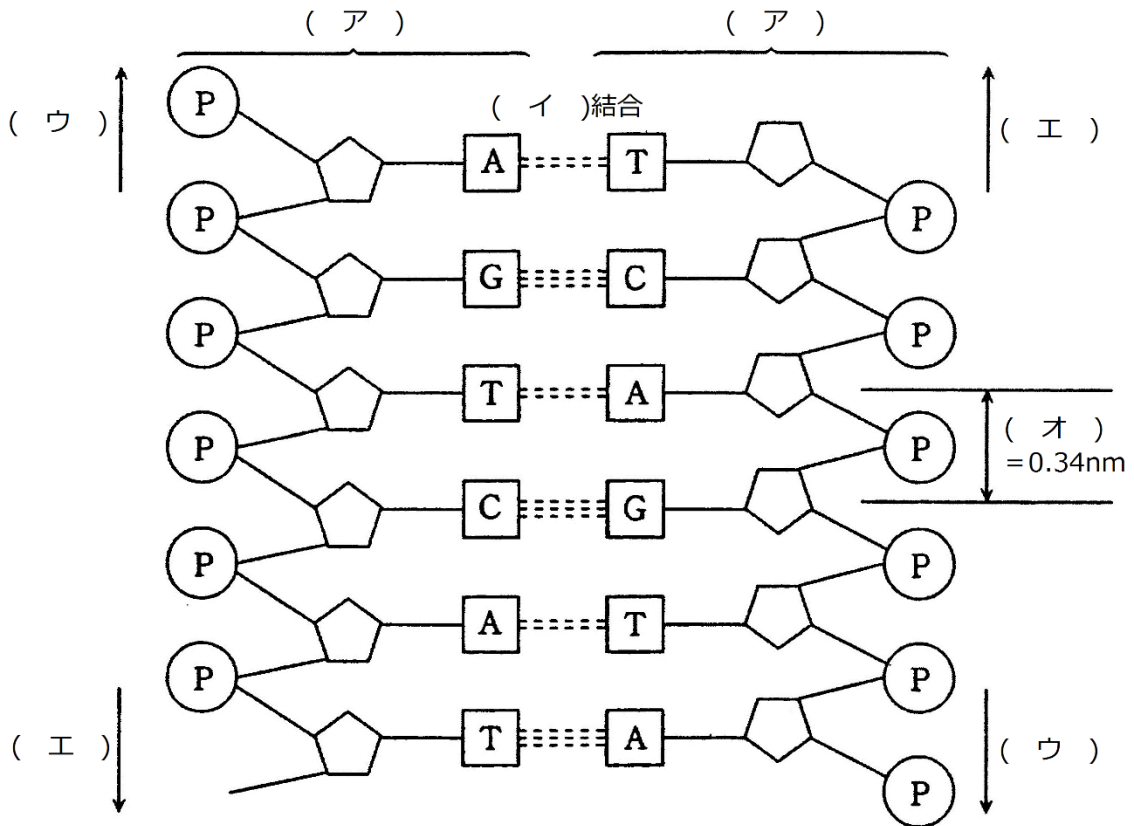
D：dヌクレオシド(デオキシリボヌクレオシド)

問3 E：ヌクレオシドーリン酸(=ヌクレオチド)

F：dヌクレオシドーリン酸(=dヌクレオチド)

第35問 DNAの構造

問4 次の図はDNAの模式図である。図中の空欄(ア～エ)に適する語句を入れよ。また
(オ)の部分は0.34nmであるが、この部分を何と表現したらいいか。



<第35問 問4の解答>

問4

ア - ポリヌクレオチド(=ヌクレオチド鎖=ポリヌクレオチド鎖)

イ - 水素 ウ - 5'方向 エ - 3'方向

オ - 塩基対間の距離(ヌクレオチド対間の距離)

第36問 RNA

問1 図中の空欄(ア～オ)に物質の名称を入れよ。

塩基	リボース	
□	◡(ア)
A	(イ)
U	(ウ)
G	(エ)
C	(オ)

問2 図中の空欄(カ～ケ)に物質の名称を入れよ。

塩基	リボース	リン酸	
□	◡	(P)アデノシンーリン酸
A		(カ)
U		(キ)
G		(ク)
C		(ケ)

問3 RNAに関する次の文章の空欄(コ～シ)に適する語句を入れよ。

RNAには遺伝子のセンス鎖を写し取った(コ)・リボソームの成分となっている(サ)・翻訳の現場にアミノ酸を運んでくる(シ)がある。

<第36問の解答>

問1

ア - ヌクレオシド イ - アデノシン ウ - ウリジン エ - グアノシン オ - シチジン

問2

カ - アデノシンーリン酸(=AMP) キ - ウリジンーリン酸(=UMP)

ク - グアノシンーリン酸(=GMP) ケ - シチジンーリン酸(=CMP)

問3

コ - mRNA(=伝令RNA) サ - rRNA

シ - tRNA(=運搬RNA)

第37問 DNAの複製

問1 次の文章の空欄(ア～ウ)に適する語句を入れよ。

DNAの構造を解明したのは(ア)と(イ)であるが、彼らはこのときDNAは(ウ)的に複製されることを提唱した。この提唱を証明して見せたのがメセルソンとスタールである。

<第37問 問1の解答>

ア・イ - ワトソン・クリック ウ - 半保存

第37問 DNAの複製

問2 次の文章の空欄(エ～コ)に適する語句を入れよ。

DNAの複製は(エ)という酵素によっておこなわれるが、この酵素には(オ)方向から(カ)方向へ複製するものしかない。このため2本のヌクレオチド鎖はそれぞれ異なる方法によって複製されることになる。すなわち片方のヌクレオチド鎖は連続して複製され、もう片方は一度複製してからまた元に戻って複製することを繰り返すので(キ)的なヌクレオチド鎖ができる。前者のヌクレオチド鎖を(ク)といい、後者は解明者の名にちなんで(ケ)という。(ケ)はのちにつなぎ合わされて1本のヌクレオチド鎖になるが、これを(コ)という。

問3 次の文章の空欄(サ～タ)に適する語句を入れよ。

(エ)の基質は(サ)と(シ)であるが、複製開始時には(シ)がない。そこで、DNAの複製は、(ス)のみを基質とする(セ)によって開始され、短い(ソ)ができる。この(ソ)の(シ)を利用して(エ)が複製を引き継ぐ。この短い(ソ)を(タ)という。このため、(ク)の最初の部分と(コ)のところどころには(ソ)が挟まることになる。この(ソ)はあとで切り取られ、DNAと置き換えられる。

<第37問 問2・3の解答>

問2

エ - DNAポリメラーゼ オ - 5' カ - 3' キ - 断片
ク - リーディング鎖 ケ - 岡崎フラグメント コ - ラギング鎖

問3

サ - dヌクレオシド三リン酸 シ - 3'末端
ス - ヌクレオシド三リン酸 セ - RNAポリメラーゼ ソ - RNA
タ - プライマー